

彈丸之地

班級：_____

座號：_____

姓名：_____

小朋友，你還記不記得在展示館學到了那些知識呢？讓我們來考考你吧！

- ◆ 右邊有著扁平長嘴的鳥類，是臺南七股溼地最著名的國際級保育類動物，你知道牠的名字嗎？




請打勾。


- 麻雀 白頭翁 小白鷺 黑面琵鷺

- ◆ 台灣的天氣有四季變化，主要是因為地球繞著太陽公轉，還有地球自轉軸的傾斜。請觀察地球與太陽的關係，在下面()的地點，填入春季、夏季、秋季與冬季吧。



()      ()

()      ()




樓

展

區

彈丸之地

加油！



◆ 請將問題和它的正確數字，連起來。

中國古代星官制度中，有幾個

88

中國古代把赤道和黃道附近分成多少個區塊？

28

國際天文聯合會把天空中分成幾個星座？

12

天空的星座中，太陽會經過的星座有多少個？

3

樓

◆ 這些星座位於太陽投影的軌道上，所以

以有一個特殊的名字，



展


區

◆ 請問恐龍大滅絕是發生在那個地質年代呢？請打勾。

寒武紀

侏羅紀

白堊紀



南瀛天文教育園區
Tainan Astronomical Education Area